



## Grundfragen von Testbogen Nr. 19 für die Klasse B (Ersterwerb)

**1. Womit müssen Sie rechnen?**

(Frage: 1.1.02-010, Punkte: 5)

- ☐ A Eines der Kinder könnte umkehren, um den Ball zu holen
- ☐ B Das Mädchen könnte umkehren und zu den anderen laufen
- ☐ C Die Kinder werden bestimmt am Fahrbahnrand warten, bis Sie vorbeigefahren sind



Fahrschule.de 2004\_1\_1\_02\_010.jpg

**2. Welches Verhalten ist richtig?**

(Frage: 1.3.01-019, Punkte: 5)

- ☐ A Ich muss die Straßenbahn durchfahren lassen
- ☐ B Ich muss das Motorrad durchfahren lassen
- ☐ C Die Straßenbahn muss mich vorher abbiegen lassen



Fahrschule.de 2004\_1\_3\_01\_019.gif

**3. Worauf müssen Sie sich einstellen?**

(Frage: 1.1.02-017, Punkte: 4)

- ☐ A Fußgänger wechseln häufig die Straßenseite
- ☐ B Parkende Fahrzeuge erschweren die Sicht
- ☐ C Fußgänger betreten manchmal unachtsam die Fahrbahn



Fahrschule.de 2004\_1\_1\_02\_017.jpg

**4. Wie müssen Sie sich verhalten?**

(Frage: 1.1.02-012, Punkte: 5)

- ☐ A Sofort bremsen und bremsbereit bleiben
- ☐ B Einfach weiterfahren



Fahrschule.de 2004\_1\_1\_02\_012.jpg

**5. Welches Verhalten ist richtig?**

(Frage: 1.3.01-033, Punkte: 5)

- ☐ A Ich darf durchfahren
- ☐ B Ich muss dem blauen Pkw Vorfahrt gewähren
- ☐ C Ich muss dem grünen Pkw Vorfahrt gewähren



Fahrschule.de 2004\_1\_3\_01\_033.gif

Dieser Testbogen aus dem Online-Lernsystem von Fahrschule.de ist urheberrechtlich geschützt und darf unverändert beliebig oft ausgedruckt oder kopiert werden. Testen Sie das Online-Lernsystem von Fahrschule.de 4 Wochen kostenlos und bereiten Sie sich unter <http://www.fuehrerschein-lernsystem.de> optimal für Ihre Theorieprüfung vor. © 2006 Fahrschule.de Internetdienste GmbH

Session:502286397



## Grundfragen von Testbogen Nr. 19 für die Klasse B (Ersterwerb)

**6. Wie müssen Sie sich verhalten?**

(Frage: 1.1.02-013, Punkte: 5)

- ☐ A Abbremsen und notfalls anhalten
- ☐ B Links weiterfahren
- ☐ C Nur Warnzeichen geben und weiterfahren



Fahrschule.de 2004\_1\_1\_02\_013.jpg

**7. Welche Besonderheiten ergeben sich in der kalten Jahreszeit beim Befahren von Alleen?**

(Frage: 1.1.03-004, Punkte: 4)

- ☐ A Nasses Laub sowie Reif-, Eis- und Schneeglätte sind vor allem auf gewölbten Fahrbahnen besonders gefährlich
- ☐ B Auf gepflasterten Fahrbahnen entsteht häufiger und überraschender Reif- und Eisglätte als auf anderen Fahrbahnen
- ☐ C Alleen sind im Winter besonders sicher, weil die Baumkronen die Straße vor Schnee schützen

**8. Wann sollten Sie den Motor abstellen, um Kraftstoff zu sparen und die Umweltbelastung zu vermindern?**

(Frage: 1.5.01-005, Punkte: 3)

- ☐ A Wenn Sie in einem Verkehrsstau länger warten müssen
- ☐ B Wenn Sie vor Bahnübergängen oder Baustellen warten müssen
- ☐ C Wenn Sie bei einem STOP-Schild anhalten

**9. Warum sind ältere Fußgänger im Verkehr mehr gefährdet als jüngere?**

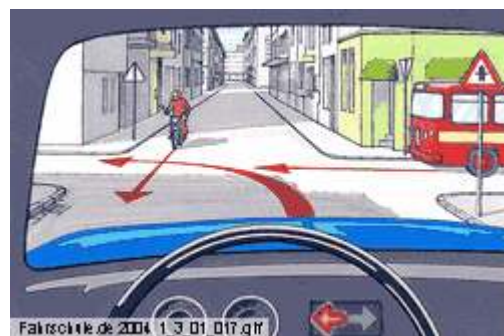
(Frage: 1.1.02-101, Punkte: 4)

- ☐ A Sie sehen und hören oft schlechter
- ☐ B Sie reagieren langsamer und sind weniger beweglich
- ☐ C Sie schätzen die Geschwindigkeit von Fahrzeugen oft falsch ein

**10. Welches Verhalten ist richtig?**

(Frage: 1.3.01-017, Punkte: 5)

- ☐ A Ich muss das Motorrad durchfahren lassen
- ☐ B Ich fahre vor dem Bus
- ☐ C Ich muss den Bus durchfahren lassen



Fahrschule.de 2004\_1\_3\_01\_017.gif

Dieser Testbogen aus dem Online-Lernsystem von Fahrschule.de ist urheberrechtlich geschützt und darf unverändert beliebig oft ausgedruckt oder kopiert werden. Testen Sie das Online-Lernsystem von Fahrschule.de 4 Wochen kostenlos und bereiten Sie sich unter <http://www.fuehrerschein-lernsystem.de> optimal für Ihre Theorieprüfung vor. © 2006 Fahrschule.de Internetdienste GmbH

Session:502286397



## Grundfragen von Testbogen Nr. 19 für die Klasse B (Ersterwerb)

**11. Wozu darf der rechte Seitenstreifen benutzt werden?**

(Frage: 1.2.02-101, Punkte: 3)

- ☐ A Zum Halten und Parken
- ☐ B Zum Befahren mit langsamen Fahrzeugen
- ☐ C Zum Überholen

**12. Wie lange dauert es im Allgemeinen, bis 1,0 Promille Alkohol im Blut abgebaut ist?**

(Frage: 1.1.09-006, Punkte: 4)

- ☐ A 10 Stunden
- ☐ B 5 Stunden
- ☐ C 1 Stunde

**13. Welche Auswirkungen kann Haschischkonsum haben?**

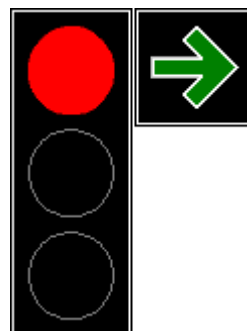
(Frage: 1.1.09-019, Punkte: 4)

- ☐ A Das Gefahrenbewusstsein kann abnehmen
- ☐ B Fehler bei der Verarbeitung von Informationen können zunehmen
- ☐ C Fehleinschätzungen von Geschwindigkeit und Entfernung können eintreten

**14. Wann darf bei dieser Ampel mit Grünpeilschild nach rechts abgebogen werden?**

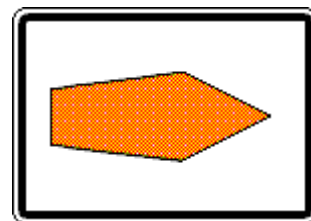
(Frage: 1.2.37-008, Punkte: 4)

- ☐ A Wenn eine Gefährdung anderer Verkehrsteilnehmer, insbesondere Fußgänger und Fahrzeuge im Querverkehr, ausgeschlossen ist
- ☐ B Wenn eine Behinderung anderer Verkehrsteilnehmer, insbesondere Fußgänger und Fahrzeuge im Querverkehr, ausgeschlossen ist
- ☐ C Wenn nur einzelne Fußgänger geringfügig behindert werden

**15. Worauf weist dieses Verkehrszeichen hin?**

(Frage: 1.4.42-128, Punkte: 2)

- ☐ A Auf eine vorgeschriebene Umleitung für Fahrzeuge mit gefährlichen Gütern
- ☐ B Auf eine in der Regel weniger befahrene Autobahnstrecke
- ☐ C Auf eine Stelle, an der man die Autobahn verlassen muss



Dieser Testbogen aus dem Online-Lernsystem von Fahrschule.de ist urheberrechtlich geschützt und darf unverändert beliebig oft ausgedruckt oder kopiert werden. Testen Sie das Online-Lernsystem von Fahrschule.de 4 Wochen kostenlos und bereiten Sie sich unter <http://www.fuehrerschein-lernsystem.de> optimal für Ihre Theorieprüfung vor. © 2006 Fahrschule.de Internetdienste GmbH

Session:502286397





## Grundfragen von Testbogen Nr. 19 für die Klasse B (Ersterwerb)

**16. An der Einfahrt in ein Industriegebiet steht das Andreaskreuz mit dem Zusatzzeichen "Industriegebiet, Schienenfahrzeuge haben Vorrang". Was haben Sie zu beachten?**

(Frage: 1.2.19-008, Punkte: 3)

- ☐ A An Bahnübergänge nur mit mäßiger Geschwindigkeit heranzufahren
- ☐ B Schienenfahrzeuge haben an allen Bahnübergängen Vorrang
- ☐ C Kraftfahrzeuge haben an Bahnübergängen ohne Andreaskreuz Vorrang

**17. Welches Verhalten ist auf Straßen mit solchen Schutzstreifen für Radfahrer richtig?**

(Frage: 1.4.42-008, Punkte: 3)

- ☐ A Sie dürfen die Markierung bei Bedarf überfahren, wenn eine Gefährdung von Radfahrern ausgeschlossen ist
- ☐ B Sie dürfen den Schutzstreifen in keinem Fall befahren
- ☐ C Sie dürfen den Schutzstreifen zum Parken mitbenutzen



**18. Wer muss hier die Fahrtrichtungsänderung anzeigen?**

(Frage: 1.2.09-105, Punkte: 3)

- ☐ A Ich selbst
- ☐ B Der rote Pkw
- ☐ C Das Motorrad



**19. Sie befinden sich im Kreisverkehr. Was ist zu beachten?**

(Frage: 1.2.09-109, Punkte: 3)

- ☐ A Eine Mittelinsel darf nur überfahren werden, wenn dies aufgrund der Fahrzeuggröße unvermeidbar ist
- ☐ B Im Kreisverkehr ist das Halten auf der Fahrbahn verboten
- ☐ C Das Verlassen des Kreises muss durch Blinken angezeigt werden

**20. Welche Bedeutung kann das blaue Blinklicht allein (ohne Einsatzhorn) haben?**

(Frage: 1.2.38-102, Punkte: 3)

- ☐ A Das Fahrzeug befindet sich auf einer Einsatzfahrt. Sie sollten ihm Platz machen
- ☐ B Ankündigung eines geschlossenen Verbandes
- ☐ C Ohne Einsatzhorn hat das blaue Blinklicht keine Bedeutung

Dieser Testbogen aus dem Online-Lernsystem von Fahrschule.de ist urheberrechtlich geschützt und darf unverändert beliebig oft ausgedruckt oder kopiert werden. Testen Sie das Online-Lernsystem von Fahrschule.de 4 Wochen kostenlos und bereiten Sie sich unter <http://www.fuehrerschein-lernsystem.de> optimal für Ihre Theorieprüfung vor. © 2006 Fahrschule.de Internetdienste GmbH

Session:502286397



## Zusatzfragen von Testbogen Nr. 19 für die Klasse B (Ersterwerb)

**21. Was bewirkt ein Antiblockiersystem (ABS)?**

(Frage: 2.7.06-101, Punkte: 4)

- ☐ A Auch bei glatter Fahrbahn wird das Fahrzeug bestmöglich gebremst
- ☐ B Beim Bremsen bleibt die Lenkfähigkeit weitgehend erhalten
- ☐ C Aquaplaning wird verhindert

**22. Was kann in Kurven zum Schleudern führen?**

(Frage: 2.1.01-003, Punkte: 3)

- ☐ A Starkes Bremsen
- ☐ B Schnelles Fahren auf nasser Fahrbahn
- ☐ C Leichtes Beschleunigen am Kurvenausgang

**23. Das Schloss eines Sicherheitsgurtes schließt nicht. Was tun Sie?**

(Frage: 2.7.02-121, Punkte: 2)

- ☐ A Schloss instand setzen lassen
- ☐ B Nichts, weil der Sitz mit Airbag ausgerüstet ist
- ☐ C Mit geringer Geschwindigkeit fahren

**24. Welche Gefahren können entstehen, wenn Sie mit Fernlicht fahren?**

(Frage: 2.1.04-003, Punkte: 4)

- ☐ A Entgegenkommende werden geblendet und können deshalb Fußgänger auf ihrer Fahrbahnseite nicht rechtzeitig erkennen
- ☐ B Wild auf der Fahrbahn wird geblendet und bleibt im Lichtkegel stehen
- ☐ C Liegen gebliebene Fahrzeuge auf der eigenen Fahrbahnseite werden zu spät erkannt

**25. Sie fahren in eine Rechtskurve; ein Motorradfahrer kommt Ihnen mit hoher Geschwindigkeit entgegen. Womit müssen Sie rechnen?**

(Frage: 2.1.07-104, Punkte: 4)

Der Motorradfahrer

- ☐ A - könnte wegen starker Schräglage mit seinem Oberkörper in Ihren Fahrstreifen hineinragen
- ☐ B - muss die Kurve wegen der Fliehkraft dicht am äußeren Fahrbahnrand durchfahren

Dieser Testbogen aus dem Online-Lernsystem von Fahrschule.de ist urheberrechtlich geschützt und darf unverändert beliebig oft ausgedruckt oder kopiert werden. Testen Sie das Online-Lernsystem von Fahrschule.de 4 Wochen kostenlos und bereiten Sie sich unter <http://www.fuehrerschein-lernsystem.de> optimal für Ihre Theorieprüfung vor. © 2006 Fahrschule.de Internetdienste GmbH

Session:502286397



## Zusatzfragen von Testbogen Nr. 19 für die Klasse B (Ersterwerb)

**26. Wann müssen Sie mindestens mit Abblendlicht fahren?**

(Frage: 2.2.17-106, Punkte: 4)

- ☐ A Während der Dämmerung
- ☐ B Am Tage, wenn es die Sichtverhältnisse erfordern
- ☐ C Beim Durchfahren schlecht beleuchteter Unterführungen

**27. Nachdem Sie längere Zeit auf der Landstraße einem ziemlich langsam fahrenden Pkw hinterher fahren mussten, worüber Sie sich geärgert haben, können Sie endlich überholen. Wie verhalten Sie sich?**

(Frage: 2.1.11-104, Punkte: 4)

- ☐ A Ich kontrolliere meinen Ärger und überhole. Dabei halte ich ausreichenden Abstand, auch beim Einscheren
- ☐ B Ich weise den Bummelanten zurecht, indem ich ihn nach dem Überholen schneide

**28. Sie fahren 100 km/h und führen eine normale Bremsung durch. Wie lang ist der Bremsweg nach der Faustformel?**

(Frage: 2.2.03-007, Punkte: 2)

 m**29. Die Bremsleuchten sind ohne Funktion. Welche Ursachen können hierfür vorliegen?**

(Frage: 2.7.02-111, Punkte: 4)

- ☐ A Bremslichtschalter defekt
- ☐ B Glühlampen defekt
- ☐ C Bremspedalweg zu klein

**30. Die Scheibenwischer an Ihrem Pkw funktionieren nicht. Was kann die Ursache dafür sein?**

(Frage: 2.7.02-120, Punkte: 2)

- ☐ A Sicherung durchgebrannt
- ☐ B Scheibenwischermotor defekt
- ☐ C Zu viel Wasser in der Scheibenwaschanlage

Dieser Testbogen aus dem Online-Lernsystem von Fahrschule.de ist urheberrechtlich geschützt und darf unverändert beliebig oft ausgedruckt oder kopiert werden. Testen Sie das Online-Lernsystem von Fahrschule.de 4 Wochen kostenlos und bereiten Sie sich unter <http://www.fuehrerschein-lernsystem.de> optimal für Ihre Theorieprüfung vor. © 2006 Fahrschule.de Internetdienste GmbH

Session:502286397



## Lösungsblatt von Testbogen Nr. 19 für die Klasse B

## Grundfragen

Frage	Richtig	Punkte	Fehlerpunkte
1	AB	5	
2	AB	5	
3	ABC	4	
4	A	5	
5	A	5	
6	A	5	
7	AB	4	
8	AB	3	
9	ABC	4	
10	AB	5	
11	AB	3	
12	A	4	
13	ABC	4	
14	AB	4	
15	B	2	
16	AB	3	
17	A	3	
18	ABC	3	
19	ABC	3	
20	AB	3	

Fehlerpunkte Grundstoff:

## Zusatzfragen

Frage	Richtig	Punkte	Fehlerpunkte
21	AB	4	
22	AB	3	
23	A	2	
24	AB	4	
25	A	4	
26	ABC	4	
27	A	4	
28	100	2	
29	AB	4	
30	AB	2	

Fehlerpunkte Zusatzstoff:

Summe Fehlerpunkte:

Wenn Sie bei Klasse B (Ersterwerb) in der Summe mehr als 10 Fehlerpunkte haben oder mehr als 1 Frage mit 5 Fehlerpunkten falsch beantwortet haben, dann sind Sie durchgefallen. [Klicken Sie hier](#), um diesen Testbogen auszudrucken. Wenn Sie beim Ausdruck Probleme mit der Formatierung haben, so können Sie nachfolgend die Seitenlänge ändern:

1050

Seitenlänge ändern

Minimaler Wert: 800, Maximaler Wert: 1200

Dieser Testbogen aus dem Online-Lernsystem von Fahrschule.de ist urheberrechtlich geschützt und darf unverändert beliebig oft ausgedruckt oder kopiert werden. Testen Sie das Online-Lernsystem von Fahrschule.de 4 Wochen kostenlos und bereiten Sie sich unter <http://www.fuehrerschein-lernsystem.de> optimal für Ihre Theorieprüfung vor. © 2006 Fahrschule.de Internetdienste GmbH

Session:502286397



